

## Gleiche Zahl oben 1

Markus hat am Ende seines Zuges die 6 oben liegen, die 2 vorne und die 3 rechts. Kann er es schaffen, dass die 6 nach drei weiteren Kippbewegungen wieder oben liegt?

- ▶ Zeichne, wenn möglich, den Kippweg im Plan ein.  
Ansonsten versuche zu erklären, warum es nicht geht.

			X			

---

---

---

---

---

---

---

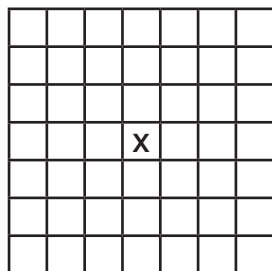
---

## Gleiche Zahl oben 2

Nun liegt die 6 nicht oben.

- ▶ Versuche, aus verschiedenen Ausgangslagen die 6 durch dreimaliges Kippen wieder nach oben zu bringen. Zeichne, wenn möglich, den Kippweg im Plan ein. Ansonsten versuche zu erklären, warum es nicht geht.

Die 6 liegt unten:

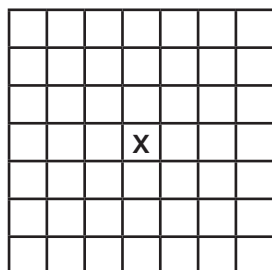



---



---

Die 6 liegt hinten:

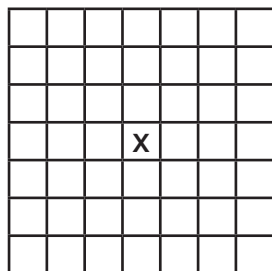



---



---

Die 6 liegt vorne:




---



---